




1) Weiß am Zug gewinnt



2) Weiß am Zug gewinnt



3) Weiß am Zug gewinnt



4) Weiß am Zug gewinnt

Aufgabe:

Markiere in allen Diagrammen sämtliche Figuren von Schwarz, die nicht gedeckt sind! Suche anschließend für Weiß eine Möglichkeit, durch Doppelangriff zwei solcher Figuren anzugreifen.

Viel Spaß!